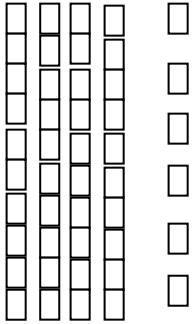


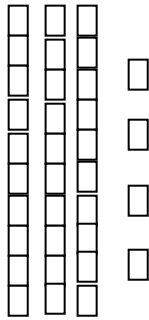
Όνομα:

1. Παρατηρώ και συμπληρώνω τις Δεκάδες και τις Μονάδες. Μετά λογαριάζω και βρίσκω ποιος αριθμός είναι, όπως το παράδειγμα:



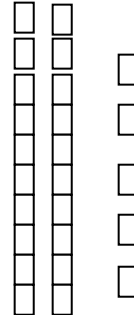
.....ΔΜ

.....



.....ΔΜ

.....



.....ΔΜ

$$10 + 10 + 5 = 25$$



2. Γράφω μπροστά από κάθε αριθμό το όνομά του και μετά εξηγώ πώς τον φτιάξαμε, όπως το παράδειγμα:

τριάντα οκτώ

$$38 = 30 + 8$$

..... 42 =

..... 29 =

..... 34 =



3. Ποιος αριθμός είναι;

4 Δ 3 Μ →

1 Μ 2 Δ →

3 Δ 0 Μ →

1 Δ 8 Μ →

3 Μ 5 Δ →

5 Δ 1 Μ →

4. Συνεχίζω όπως στο παράδειγμα:

33 → 3Δ και 3Μ → 10 + 10 + 10 + 3

41 → →

20 → →

19 → →

27 → →



5. Λύνω τα προβλήματα:

α) Η Ελένη αγόρασε μία μπλούζα 20 ευρώ, ένα καπέλο 10 ευρώ και ένα ζευγάρι κάλτσες 5 ευρώ. Πόσα χρήματα πλήρωσε συνολικά;

Λύση

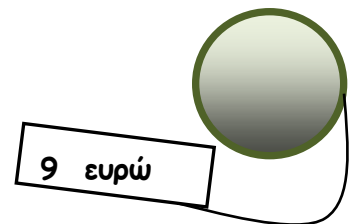
.....

Απάντηση:

β) Ο Μάνος έχει στον κουμπαρά του 4 ευρώ. Πόσα χρήματα πρέπει να του δώσει ο παππούς του για να αγοράσει το τόπι;

Λύση

.....



Απάντηση: